

02/12/2025

ESTRATTA

**CONCORSO 2025 OPERATORE TECNICO ESPERTO -
NECROFORO
PROVA "A"**

Quesito n°1 – Peso punti 6

Le viene comunicato che necessita provvedere alla sepoltura di un cadavere di persona adulta all'interno del campo comune. Considerato che l'Amministrazione Comunale dispone di un miniescavatore, indichi le ulteriori attrezzature e dotazioni necessarie, descriva le operazioni da compiere e provveda alla escavazione della fossa secondo le dimensioni necessarie.

Quesito n°2 – Peso punti 5

Provvedere all'utilizzo della piattaforma elevatrice per un intervento di taglio ramo pericolante lungo la sede stradale in centro abitato.
Indichi le dotazioni e le attrezzature necessarie e provveda a simulare la prestazione.

Quesito n°3 – Peso punti 4

Provveda all'utilizzo dell'autocarro con gru in dotazione al Comune di Peccioli per il caricamento sul cassone di un "pacco di tavoli e panche per manifestazioni all'aperto", disponendolo in modo da consentirne il trasporto.
Prima di iniziare le operazioni indichi le attrezzature/dotazioni occorrenti.

Quesito n°4 – Peso punti 4

Descrivere come è solitamente strutturato un impianto automatico di irrigazione per un giardino pubblico – Indichi i principali componenti e lo schema funzionale.

Quesito n°5 – Peso punti 3

Procedere al montaggio di una prolunga telefonica con attacchi a plug.

Quesito n°6 – Peso punti 3

Provveda alla individuazione dei componenti necessari per la realizzazione di un circuito elettrico di accensione per un punto luce comandato da 4 punti e dimostri la manualità nella spellatura dei fili.


Quesito n°7 – Peso punti 5

In riferimento alle piante che le vengono mostrate, provveda al loro riconoscimento, indicando per ognuna di esse sia le principali caratteristiche che le diverse possibilità di impiego (18 vasi).

CONCORSO 2025 OPERATORE TECNICO ESPERTO - NECROFORO PROVA "C"


Quesito n°1 – Peso punti 6

Le viene comunicato che necessita provvedere alla esumazione ordinaria di una sepoltura all'interno del campo comune. Indichi quali sono le condizioni per poter avviare la procedura e considerato che l'Amministrazione Comunale dispone di un miniescavatore, indichi le ulteriori attrezzature e dotazioni necessarie, descriva le operazioni da compiere e provveda all'avvio dell'intervento.



Quesito n°2 – Peso punti 5

Le viene richiesto di provvedere all'utilizzo della piattaforma elevatrice per la riparazione della plafoniera di un lampione stradale di pubblica illuminazione in centro abitato. Indichi le dotazioni e le attrezzature necessarie e provveda a simulare un intervento di sostituzione lampada.



Quesito n°3 – Peso punti 4


Provveda all'utilizzo dell'autocarro con gru in dotazione al Comune di Peccioli per il caricamento di una trave in ferro della lunghezza di mt 5,00, collocandola in modo da consentirne il trasporto. Prima di iniziare le operazioni indichi le attrezzature/dotazioni occorrenti.

Quesito n°4 – Peso punti 4

Provveda al montaggio dei componenti di una cassetta di cacciata per scarico acqua nel WC, collegandola alla rete di alimentazione idrica;

Quesito n°5 – Peso punti 3

Procedere alla realizzazione di una prolunga per rete dati con attacchi a plug.



Quesito n°6 – Peso punti 3

Provveda alla individuazione dei componenti necessari per la realizzazione di un circuito elettrico di accensione per un punto luce comandato da 3 punti e dimostri la manualità nella spellatura dei fili.

Quesito n°7 – Peso punti 5

Rispetto alle piante che le vengono mostrate, indichi quelle che ritiene maggiormente idonee per la piantumazione all'interno di un resede scolastico per il tappezzamento di un'area verde, giustificando sia le scelte effettuate che le esclusioni.

